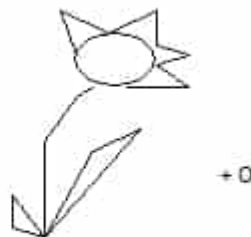
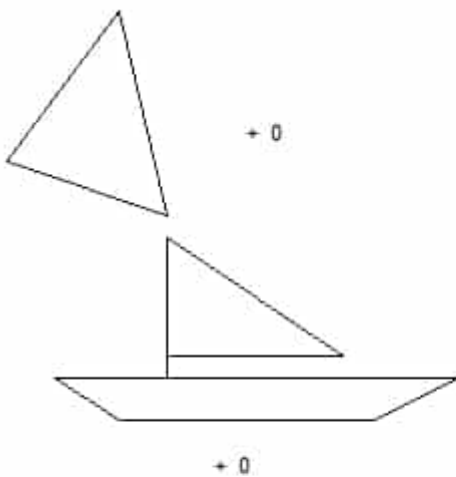




# Symétrie centrale

## EXERCICE N° 1 :

Construire le symétrique de chacune des figures suivantes par rapport au point O.




## EXERCICE N° 2 :

Construire le symétrique de chacune des figures suivantes par rapport au point O.



. O



. O

### EXERCICE 3 SYMÉTRIE CENTRALE :

Indiquer dans quelle zone est situé chacun des points suivants :

1. Le symétrique du point A par rapport au point O.
2. Le symétrique du point A par rapport au point B .
3. Le symétrique du point O par rapport au point B .
4. Le symétrique du point B par rapport au point O.
5. Le symétrique du point C par rapport au point O.
6. Le symétrique du point C par rapport au point B .

